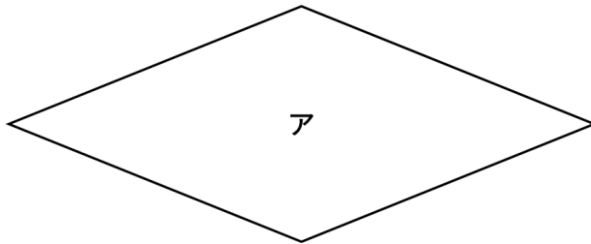


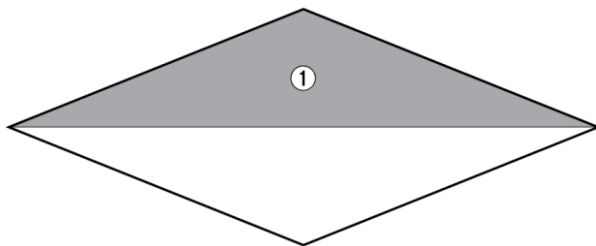
かだめしミニプリント 算数【図形】②

	年		組		番	名 前	
--	---	--	---	--	---	--------	--

1 次の図のようなひし形アがあります。

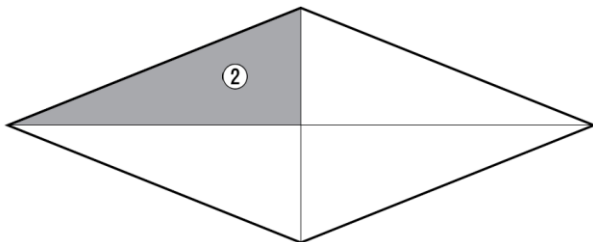


(1) ひし形アを、下の図のように1本の対角線で切ります。
このときにできる①の部分の三角形の名前を書きましょう。



答

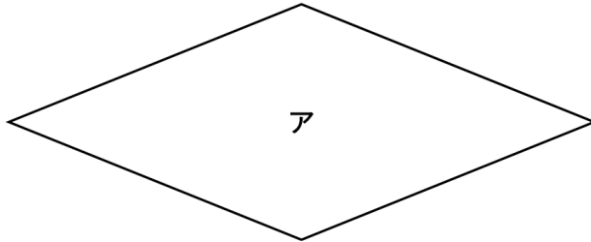
(2) ひし形アを、下の図のように2本の対角線で切ります。
このときにできる②の部分の三角形の名前を書きましょう。



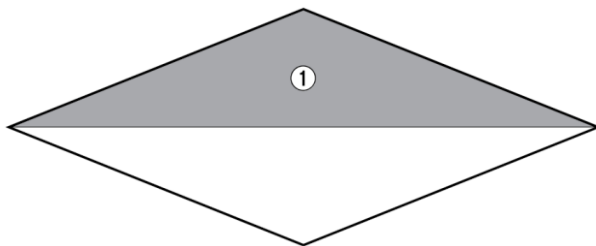
答

	年		組		番	名 前	解 答
--	---	--	---	--	---	--------	-----

1 次の図のようなひし形アがあります。



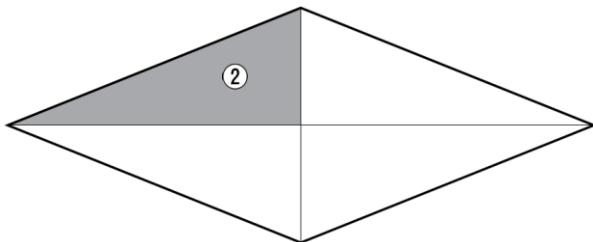
(1) ひし形アを、下の図のように1本の対角線で切ります。
このときにできる①の部分の三角形の名前を書きましょう。



答え

二等辺三角形

(2) ひし形アを、下の図のように2本の対角線で切ります。
このときにできる②の部分の三角形の名前を書きましょう。



答え

直角三角形